



Savoie

# Saint-Alban-des-Villards

Très difficile



Très facile



2 h



3,8 km



Église de St-Alban

La commune de Saint Alban des Villards, en retrait de l'axe de circulation principale, est à découvrir en prenant le temps de la contemplation. Maisons frileusement serrées les unes aux autres, greniers sur pilotis (aussi appelés localement chambres de bois), cadran solaire, église de style néo-classique sarde, chemins s'ouvrant vers les hameaux ou les longues randonnées estivales, petites places aménagées pour la pétanque... sauront ravir le visiteur.

Avec les plus jeunes, depuis le Premier Villard, vous pourrez gagner la Chapelle des Voûtes, artistiquement rénovée ou, depuis le Planchamp, descendre au Pont du Rivaud, qui franchit majestueusement le Glandon au pied d'un village abandonné depuis 1955 ; à partir du chef-lieu, vous grimpez jusqu'à la table d'orientation de la Croix des Charrières ou, par les chaleurs d'été, goûterez la fraîcheur du Chemin des Moulins. Certes, les raquettes à neige seront nécessaires en hiver, mais souvent, dès la fin février, les sentiers vous offriront primevères, perce-neige et violettes... Les marcheurs plus aguerris, à travers prés, forêt et alpage, pourront rejoindre la Croix du Balais, qui surplombe toute la vallée des Villards, ou la combe du Merlet, très parcourue par les skieurs de randonnée.

Mais peut-être préférerez-vous, tout simplement, flâner au cœur de l'un des 6 hameaux paisibles et préservés...



Maison du Tourisme  
de la Vallée des Villards  
Chef-Lieu  
73130 Saint Colomban des Villards  
Tél. 04 79 56 24 53  
Fax 04 79 59 14 38



# Saint-Alban-des-Villards

## Road-book

Soyez vigilants avec vos enfants notamment sur les zones non piétonnes. Le parcours s'effectue sous votre entière responsabilité. L'Office de tourisme et la société Randoland déclinent toute responsabilité en cas d'accident.

**D**épart du parking, derrière l'église.

Passer devant l'église ①.

Passer devant le Monument aux morts puis prendre à droite (direction "Sentier balcon des Villards"). Devant la dernière maison blanche sur la gauche, remarquer la fontaine ②.

Continuer sur le chemin jusqu'à la Croix des Charrières ③.

Monter ensuite jusqu'à la Table d'orientation ④.

Faire demi-tour puis suivre la direction "Le Bessay - Sentier balcon des Villards".

Continuer jusqu'au banc de bois placé en bordure de chemin. Remarquer alors l'arbre à deux troncs, juste au-dessus du chemin, sur la droite ⑤.

Poursuivre jusqu'à la Combe du Bessay ⑥.

Descendre alors à gauche dans la combe du Bessay, direction "Le Bessay", pour rejoindre le hameau

du même nom à l'altitude 1130 m ⑦.

Juste avant la route, remarquer le grenier en bois caractéristique de la région ⑧.

Emprunter la route sur la gauche, direction le chef-lieu de St Alban des Villards.

Prendre ensuite le chemin à gauche pour rejoindre le point de départ.



Retrouvez encore plus de balades partout en France sur [www.randoland.fr](http://www.randoland.fr)

# Saint-Alban-des-Villards

L'Inspecteur Rando part en balade. Mais par où va-t-il passer et où va-t-il ?

Pour découvrir le chemin emprunté, utilise les informations de la page suivante.

Attention, l'Inspecteur Rando choisit le chemin le plus court et ne revient jamais sur ses pas !

Chaque fois qu'il trouvera une friandise sur sa route, colorie, dans l'ordre, un bonbon de la frise.

En fin de parcours, note dans la case réponse le nombre de bonbons trouvés par l'Inspecteur Rando.

4/6  
ans



© randoland 2015. Illustrations : Armelle Drouin.


Tu peux te rendre à l'Office de Tourisme ou sur le site [www.randoland.fr](http://www.randoland.fr) pour vérifier ta réponse (code énigme 7322101P).

1	2	3	4	5	6	7	8	9	10	

Ta réponse

### 1 L'église

Observe la fresque peinte sur la façade de l'église. Quel animal reconnais-tu ?  
Tu vas découvrir la première étape de l'Inspecteur Rando.




### 2 La fontaine

Quelle est la photo de la fontaine vers laquelle tu te trouves ?



### 3 La Croix des Charrières

Quel nuage de chiffres te permet de reconstituer la date inscrite sur la croix.



### 4 La table d'orientation

Demande à un adulte de te lire le nom du sommet situé à 2832 m.  
Quel pinceau est de la couleur que tu viens d'entendre ?



### 5 Le coin repos


Quelle est la photo de l'écorce de l'arbre situé à droite du chemin, juste au-dessus du banc ?



### 6 La Combe du Bessay



Quel groupe d'étiquettes te permet de reconstituer le mot effacé sur cette photo ?

Sentier ~~XXXX~~ des Villards  
Soujette 5 mn  
Les Echets - La Chenal



### 7 Le Bessay

Quel fruit est de la même couleur que les petits carrés effacés sur la photo contre ?



### 8 Le grenier

Quelle est la photo de ce grenier ?



# Saint-Alban-des-Villards

## ÉNIGME

Depuis quelques années, à l'occasion du Tour de France cycliste, le Grand Prix des Communes Gourmandes met en lumière le savoir-faire des villages français. La recette de la Madeleine préférée des habitants est présentée au jury lors du passage des cyclistes. Sucrée ou salée, cette madeleine revisite les plats ou desserts traditionnels de la région. Une véritable aventure culinaire originale et conviviale qui fait la part belle au terroir français.

En 2012, le territoire a obtenu le premier prix grâce à une recette au beaufort et avec un autre ingrédient que tu pourras peut-être trouver au cours de ta balade. Un indice : c'est une des nombreuses plantes sauvages qui fleurit au printemps ! Parviendras-tu à retrouver son nom ?

7/9  
ans



Tu disposes du plan ci-contre. À l'emplacement des points rouges, lis les indications qui te permettront de résoudre l'énigme principale. À la fin de ta balade, rends-toi à l'Office de Tourisme ou le site [randoland.fr](http://randoland.fr) pour vérifier ta réponse.





# Saint-Alban-des-Villards

+10  
ans

## ÉNIGME

Comme chaque année, Paul et sa famille viennent passer une semaine de vacances à la neige dans la commune.

Accompagnée d'un guide de la station, toute la tribu a prévu une journée de ski de randonnée, d'autant que la météo s'annonce clémente, que les risques d'avalanches sont au niveau 1 (faibles) et que le manteau neigeux est bien stabilisé.

Les sommets sont nombreux à permettre de dévaler les pentes enneigées.

Parmi la liste ci-dessous, parviendras-tu à découvrir le nom du sommet atteint par Paul et sa famille ?

## LES SOMMETS

- ▶ **Pointe de la Lavoire**, 2382 m
- ▶ **Combe du Merlet**, 2286 m
- ▶ **Le Puy Gris**, 2908 m
- ▶ **Col de Montfossé**, 2457 m
- ▶ **Croix de Triadou**, 1980 m
- ▶ **Le Sambuis**, 2734 m.
- ▶ **Col des Balmettes**, 2438 m
- ▶ **Croix du Cuchet**, 2102 m
- ▶ **Col des Fontaines**, 2481 m
- ▶ **Le Balais**, 1978 m



Tu disposes du plan ci-contre.

À l'emplacement des points rouges, lis les indications qui te permettront de résoudre l'énigme principale.

À la fin de ta balade, rends-toi à l'Office de Tourisme ou le site [randoland.fr](http://randoland.fr) pour vérifier ta réponse.



Lors du passage devant chacun des indices lis attentivement les indications fournies. Elles te permettront de trouver la réponse à l'énigme principale.

### 1 L'église

Recherche le panneau donnant des indications sur l'église et le presbytère puis trouve la date mentionnant l'existence de la maison crurale. L'année que tu viens de trouver et l'altitude du sommet recherché ne se terminent pas par le même chiffre.

### 2 La fontaine

Ajoute 1000 à la date qui figure sur cette fontaine. Le sommet recherché a une altitude inférieure au nombre que tu viens de trouver.

### 3 La Croix des Charrières

Le chiffre des dizaines de l'année inscrite sur la croix est différent du chiffre des dizaines du sommet recherché.



### 4 La table d'orientation

Le sommet recherché figure sur la table d'orientation.

### 5 Le coin repos

Pour cet indice, les voyelles valent + 5 et les consonnes - 1.

Ex. : ORME -> 5 - 1 - 1 + 5 = 8


Calcule la valeur du nom de l'arbre situé à droite du chemin, juste au-dessus du banc. Les deux premiers chiffres de l'altitude du sommet recherché sont différents des deux chiffres composant le nombre que tu viens de trouver.

#### UN PEU D'AIDE

##### Les arbres et leurs écorces



Douglas



Bouleau



Figuier

### 6 La Combe du Bessay

Paul est passé par la Combe du Bessay. Pour rejoindre le sommet recherché il a grimpé moins de 1000 mètres.

### 7 Le Bessay

Pour cet indice observe le panneau qui indique la destination d'un lieu situé à 1 h 30 de marche. Le code en rouge indique la position de la lettre sur cette ligne.

Ex. : 1 correspond à la lettre C, 2 à la lettre R, 3 à la lettre O...

code : 9 - 27 - 1 - 10 - 7

Les 5 lettres trouvées ne figurent pas, toutes ensemble, dans le nom du sommet recherché.

### 8 Le grenier

Retrouve la photo du grenier.

Le nom de famille de l'enfant noté sous la bonne photo ne rime pas avec le sommet recherché.



Sardou



Malais



Souchet

#### UN PEU D'HISTOIRE

##### Les greniers ou « chambres de bois »

Ce sont des « petites maisons en bois », sans fenêtre et sur pilotis de poutres, considérées comme un meuble. Il s'agissait dans un premier temps de stocker à l'écart des risques d'incendie, donc à l'extérieur des hameaux, les récoltes de graines, les semences ainsi que les pièces du costume traditionnel et le linge. Le double toit (bardage et tôle ou toit en chaume avant l'introduction de la tôle) ainsi que le pilotis permettaient aussi de conserver ces biens précieux à l'abri de l'humidité et des nuisibles (souris, rats...).

Certains sont aujourd'hui rénovés et servent de pièces d'habitation.

Tu devrais avoir retrouvé le nom du sommet recherché.

Circuit n° 7322101G

Ta réponse : .....